

GÜN GÜN MATİK

2.
SINIF

YENİ NESİL

HAYAT BİLGİSİ



Kitabı Yazan
Harun DAĞLI

ISBN

978-625-83000-3-1

Redaksiyon

Tuğba CEYHAN - Betül Çiğdem DAĞLI
Salih ÜLGEN

Yayıncı Sertifikası
51650

Kapak Tasarım
İbrahim GÜLDAĞ

Mizanpaj
Fatih TAŞ

İletişim

ENFA YAYINCILIK SAN. TİC. LTD. ŞTİ.
Fevzi Çakmak Mahallesi 10770 Sokak No: 1/K
Karatay / KONYA Tel: 0332 345 46 46
Cep: 0501 335 46 46
www.artibiryayinlari.com // artibiryayinevi@gmail.com

Baskı

Tarcan Matbaacılık (Murat Tarcan)
İvedik Cad. No: 417/A Yenimahalle / ANKARA
Sertifika No: 47663

Bu yayının tüm yasal hakları; ENFA YAYINCILIK SAN. TİC. LTD. ŞTİ'ne aittir. Kitaptaki özgün metin, soru, şekil ve resimlerin tamamının veya bir kısmının Fikir ve Sanat Eserleri Kanunu uyarınca yayınevi ve yazarın yazılı izni olmadan elektronik, mekanik, fotokopi ya da başka bir şekilde çoğaltılması, yayımlanması ve dağıtılması yasaktır.



İSTİKLÂL MARŞI

Korkma, sönmez bu şafaklarda yüzen al sancak;
Sönmeden yurdumun üstünde tüten en son ocak.
O benim milletimin yıldızıdır, parlayacak;
O benimdir, o benim milletimindir ancak.

Çatma, kurban olayım çehreni ey nazlı hilâl!
Kahraman ırkıma bir gül... ne bu şiddet bu celâl?
Sana olmaz dökülen kanlarımız sonra helâl,
Hakkıdır, Hakk'a tapan, milletimin istiklâl.

Ben ezelden beridir hür yaşadım, hür yaşarım.
Hangi çılgın bana zincir vuracakmış? Şaşarım!
Kükremiş sel gibiyim; bendimi çiğner, aşarım;
Yırtarım dağları, enginlere sığmam, taşarım.

Garb'ın âfâkını sarmışsa çelik zırhlı duvar;
Benim iman dolu göğsüm gibi serhaddim var.
Ulusun, korkma! Nasıl böyle bir îmânı boğar,
"Medeniyet!" dediğin tek dişi kalmış canavar?

Arkadaş! Yurduma alçakları uğratma sakın;
Siper et gövdeni, dursun bu hayâsızca akın.
Doğacaktır sana va'dettiği günler Hakk'ın...
Kim bilir, belki yarın... belki yarından da yakın.

Bastiğın yerleri "toprak!" diyerek geçme, tanı!
Düşün altındaki binlerce kefensiz yatanı.
Sen şehîd oğlusun, incitme, yazıktır atanı;
Verme, dünyâları alsan da, bu cennet vatanı.

Kim bu cennet vatanın uğruna olmaz ki fedâ?
Şühedâ fişkırarak, toprağı sıksan şühedâ!
Cânı, cânânı, bütün varımı alsın da Hudâ,
Etmesin tek vatanımdan beni dünyâda cüdâ.

Ruhumun senden, İlahî, şudur ancak emeli:
Değmesin ma'bedimin göğsüne nâ-mahrem eli!
Bu ezanlar-ki şehâdetleri dînin temeli-
Ebedî yurdumun üstünde benim inlemeli

O zaman vecd ile bin secde eder –varsa- taşım;
Her cerîhamdan, İlahî, boşanıp kanlı yaşım,
Fışkırır rûh-i mücerred gibi yerden na'şım;
O zaman yükselerek Arş'a değer, belki başım.

Dalgalar sen de şafaklar gibi ey şanlı hilâl;
Olsun artık dökülen kanlarımın hepsi helâl.
Ebediyen sana yok, ırkıma yok izmihlâl:
Hakkıdır, hür yaşamış bayrağımın hürriyet;
Hakkıdır, Hakk'a tapan milletimin istiklâl!

MEHMET AKİF ERSOY

1. ÜNİTE

| | |
|-----------------------------------|----|
| Fiziksel Özelliklerimiz | 5 |
| Benzer ve Farklı Yönlerimiz | 7 |
| Ders Programım | 9 |
| Görüşlerim Değerlidir | 11 |
| Okulumuzun Yeri | 13 |
| Okul Hepimizin | 15 |
| Grup Çalışması | 17 |
| Kendimi İfade Ediyorum | 19 |
| Oyun Oynuyoruz | 21 |
| İhtiyaçlarımız-İsteklerimiz | 23 |

2. ÜNİTE

| | |
|-------------------------------------|----|
| Akrabalarımız | 25 |
| Akrabalık İlişkilerinin Önemi | 27 |
| Adresimi Biliyorum | 29 |
| Evdeki Sorumluluklarımız | 33 |
| Kararları Ailemizle Alıyoruz | 35 |
| Evimizde Tasarruf | 37 |
| Duyarlı Olalım | 41 |
| Yardımsaver Olalım | 43 |
| Planlı Olmak | 45 |
| Öncelikli İhtiyaçlarımız | 47 |

3. ÜNİTE

| | |
|-----------------------------------|----|
| Sağlıklı Yaşam | 49 |
| Dengeli ve Düzenli Beslenme | 51 |
| Yemekte Görgü Kuralları | 53 |
| Sağlıklı ve Temizim | 55 |
| Temiz Çevre Sağlıklı Hayat | 57 |
| Sağlığımız İçin Çalışanlar | 59 |
| Mevsiminde Tüketelim | 61 |
| Mevsimine Uygun Giyinelim | 63 |

4. ÜNİTE

| | |
|--|----|
| Ulaşım Araçlarını Tanıyoruz | 65 |
| Ulaşım Araçları | 67 |
| Yolculuk Yapıyoruz | 69 |
| Trafikte Yardımcı Oluyoruz | 71 |
| Acil Durum Numaraları | 73 |
| Teknolojiyi Güvenli Kullanıyoruz | 75 |
| Oyun Araçlarında Güvenlik | 77 |
| Test-38 | 79 |

5. ÜNİTE

| | |
|---------------------------------------|----|
| Ülkemizin Yeri | 81 |
| Bayrağımız ve İstiklal Marşımız | 83 |
| Atatürk'ün Çocukluğu | 85 |
| Ülkemiz ve Atatürk | 87 |
| Millî Gün ve Bayramlarımız | 89 |
| Dinî Bayramlar | 91 |
| Kültürel Mirasımız | 93 |
| Ülkemize Göç Edenler | 95 |
| Ürettiklerimiz | 97 |

6. ÜNİTE

| | |
|--|-----|
| Bitkiler ve Hayvanlar | 99 |
| Canlılarda Beslenme | 101 |
| Bitki Yetiştirme ve Hayvan Besleme | 103 |
| Geçmişten Günümüze Yaşam | 105 |
| Geri Dönüşüm | 107 |
| Doğa Olayları | 109 |
| Doğal Afetler | 111 |
| Doğal Afetlere Karşı Alınacak Önlemler | 113 |
| Yönümüzü Buluyoruz | 115 |
| Dünya'nın Hareketleri | 117 |
| Deneme | 119 |
| Kodlama Zamanı | 125 |
| Cevap Anahtarı | 126 |

1. Aşağıdaki kutularda size ait fiziksel özellikleri boyayınız.

Kıvırcık saçlıyım

Yeşil gözlüyüm

Sarı saçlıyım

Uzun boyluyum

Mavi gözlüyüm

Zayıfım

Kahverengi gözlüyüm

Kısa boyluyum

Kiloluyum

Esmerim

Düz saçlıyım

Kahverengi saçlıyım

Siyah saçlıyım

2. Aşağıdaki cümleleri uygun sözcüklerle tamamlayınız.

Bireysel

Fiziksel

Boyumuz

Saygılı

İlgi

- Saç rengi ve göz rengi özelliklerimizdir.
- Sevdiğimiz ve sevmediğimiz şeyler farklılıklarımızdır.
- Farklı alanlara duyabiliriz.
- Büyümemiz devam ettikçe uzayabilir.
- Herkesin ilgi alanlarına olmalıyız.

Yeni Nesil

3. Aşağıdaki ifadelerden fiziksel özellik olanları boyayınız.

Arif, çok güzel resim çizer.

Ezgi'nin saçları uzundur.

Hilal'in gözleri mavidir.


Osman, uzun boyludur.

Melis satranç oynamayı çok sever.

Kerem, yüzmede çok başarılıdır.

Alp, güzel dans eder.

Sıla, esmer tenlidir.

1.  Boyum geçen yıl 100 santimetreydi. Bu yıl 110 santimetre oldu.

Buna göre Çağrı için aşağıdakilerden hangisi söylenebilir?

- A) Çağrı yeteneklerinden bahsetmiştir.
B) Çağrı, fiziksel özelliğinden bahsetmiştir.
C) Çağrı, duygusal özelliğinden bahsetmiştir.


2. ● Bireysel farklılıklara saygı duymalıyız.

▲ Herkesin fiziksel özellikleri farklıdır.

■ Herkesin kilosu aynı olmalıdır.

Yukarıda sembollerle gösterilen ifadelerden hangisi yanlıştır?

- A) ■ B) ● C) ▲

3.  Tenis oynamayı çok severim.

Tuba

Saçlarım dalgalı ve siyahtır.



Ata

Resim dersini çok severim.



Elif

Öğrencilerden hangisi fiziksel özelliğinden bahsetmiştir?

- A) Elif B) Ata C) Tuba

4. Fatma arkadaşlarına iyi davranır. Onları sever ve saygı duyar.

Bu davranışlar Fatma'nın hangi özelliğini göstermez?

- A) Duygusal B) Fiziksel
C) Bireysel

Yeni Nesil

5.

Herkesin fiziksel özellikleri birbirinden farklıdır.

Doğru

Yanlış

Arkadaşlarımızın ilgi alanlarına saygı duymamalıyız.

D

Y

İnsanların yapmayı sevdiği şeyler zamanla değişebilir.








D

Y

Yukarıdaki ifadeler doğru veya yanlış olma durumuna göre tercih edilirse hangi renkteki sonuca ulaşılır?

- A) ○ B) ○ C) ○

1. Aşağıdaki ifadelerden doğru olanların balonunu boyayınız.







- Farklı özelliklere sahip arkadaşlarımızı kıskanmalıyız. 
- Herkes mavi rengi sevmelidir. 
- İnsanların hoşlandığı şeyler zamanla değişebilir. 
- Farklı özelliklere sahip kişilerle arkadaşlık etmemeliyiz. 
- Bireysel farklılıklara karşı hoşgörülü olmalıyız. 
- Herkesin aynı spora yeteneği olmalıdır. 
- Arkadaşlarımızın hepsi aynı düşünmelidir. 


2. Aşağıdaki etkinliklerden sevdiğinizde gülen yüzü, sevmediklerinizde üzgün yüzü boyayınız.

| | |
|--|---|
| Bisiklet sürmek | Voleybol oynamak |
|   |   |
| İp atlamak | Kitap okumak |
|   |   |
| Şarkı söylemek | Tenis oynamak |
|   |   |
| Resim çizmek | Basketbol oynamak |
|   |   |

Yeni Nesil

3. Aşağıdaki ifadelerle çocukları eşleştiriniz.

-  Elif çok güzel resim yapar.
-  Çetin şarkı söylemeye çalışır.
-  Esin'in yüzünde çilleri vardır.
-  Yeşim zayıf ve uzun boylu bir kızıdır.
-  Asya çok iyi bir koşucudur.
-  Halil'in gözleri iyi görmediğinden gözlük kullanmaktadır.



1. Bireysel farklılıkları olan kişilere nasıl davranmamalıyız?

- A) Saygı duymalıyız.
- B) Hoşgörüle yaklaşmalıyız.
- C) Görmezden gelmeliyiz.

2. Görseldeki öğrenciye arkadaşları nasıl davranmamalıdır?



- A) Ona her zaman yardım etmelidir.
- B) Onun katılabileceği oyunlar seçmelidir.
- C) Oyunlarda onu aralarına almamalıdır.

3. Aşağıdakilerden hangisi fiziksel özelliklerdendir?

- A) Kıvrık saçlı olmak
- B) Flüt çalmak.
- C) Resim yapmak.

4. Aşağıdaki çocuklardan hangisi duygusal özelliğinden bahsetmiştir?

- A) Hale, mavi gözlü, sarı saçlıdır.
- B) Selcan, hareketli şarkıları dinlemeyi sever.
- C) Soner, uzun boyludur.

Yeni Nesil

5.



Farklı özellikleri olan insanları bakışımızla rahatsız etmeliyiz.

Arkadaşlarımızı olduğu gibi kabul etmeliyiz.



İlgi ile yetenek farklı olamaz.

Yukarıdaki ifadelerden doğru olanlar yeşile boyanacaktır.





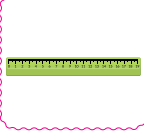



Buna göre aşağıdakilerden hangisi doğrudur?

A)

B)

C)

1. Aşağıda Kerem'in cuma gününe ait ders programı verilmiştir. Cuma günü çantasına koyması gereken araç gereçleri işaretleyiniz.

| | | |
|--|---|--|
|  | Cuma Matematik Matematik Türkçe Türkçe Beden Eğitimi Hayat Bilgisi |  |
|  | |  |
|  | |  |
|  | |  |

2. Aşağıdaki cümleleri uygun sözcüklerle tamamlayınız.
















kendimiz düzenli spor dikkatli

ders programına planlı gereksiz

- Çantamızı uygun hazırlamalıyız.
- Ders çalışırken olmalıyız.
- Programda olmayan eşyaları yere çantamıza koymamalıyız.
- ayakkabılarını beden eğitimi dersinin olduğu gün getirmeliyiz.
- Çantamıza eşyaları ve koymalıyız.
- Çantamızı hazırlamalıyız.

Yeni Nesil

3. Pazartesi: Türkçe - Türkçe - Hayat Bilgisi - Matematik - Gösel Sanatlar - Beden Eğitimi

| | | | | | |
|--------------|---|---|--|---|---|
| Ayhan |  |  |  |  |  |
| Selim |  |  |  |  |  |
| Gülay |  |  |  |  |  |

Yukarıdaki öğrenciler ders programına uygun getirdikleri her araç-gereç için 20 puan alacaklardır. Uygun olmayanlar için de 5 puanları silinecektir.

Buna göre çocukların alacakları puanları yazınız.

Ayhan →

Selim →

Gülay →

1. Çantasını hazırlarken Türkçe defterini ve kitabını çantasına koyan bir öğrenci aşağıdakilerden hangisine ihtiyaç duyar?

- A) Türkçe sözlük B) Sulu boya
C) Cetvel

2. Aşağıdakilerden hangisi her zaman okul çantasında olması gereken araç gereçlerdendir?

- A) Resim defteri B) Silgi
C) Gitar

3. ► Çantamızı ders programına göre hazırlamalıyız.

► Ödevlerimizi zamanında yapmalıyız.

► Okul eşyalarımızı düzenli kullanmalıyız.

► Çantamıza gereğinden fazla araç gereç koymalıyız.

Yukarıdaki ifadelerden kaç tanesi doğrudur?

- A) 2 B) 3 C) 4

Yeni Nesil

4.

| DERS PROGRAMI | | |
|---------------|-----------|-----------|
| Pazartesi | Salı | Çarşamba |
| Türkçe | Matematik | Türkçe |
| Hayat B. | Beden E. | Matematik |
| Görsel S. | İngilizce | Hayat B. |

Ayşe'nin üç günlük ders programı verilmiştir.

Buna göre Ayşe salı günü aşağıdaki araç gereçlerden hangisini getirmemelidir?

- A) İngilizce sözlük B) Spor ayakkabı C) Resim defteri

1. Aşağıdaki ifadeleri uygun sözcüklerle tamamlayınız.

fikirlerine kibarca kurallar

özgürce sebebini zorunda

- ➔ Katılmadığımız kuralların açıklamalıyız.
- ➔ İnsanların bir arada yaşadığı yerlerde olmalıdır.
- ➔ Arkadaşlarımızın saygılı olmalıyız.
- ➔ Kurallara uymayan arkadaşlarımızı uyarmalıyız.
- ➔ Karar alırken herkes fikirlerini dile getirmelidir.
- ➔ Okul kurallarına herkes uymak dir.

2. Aşağıdaki tabloya sınıf kurallarını yazınız.

.....

.....

.....

.....

.....

.....

.....

.....

.....

.....

Yeni Nesil

3. Aşağıdaki ifadelerden doğru olanların başındaki, yanlış olanların sonundaki harfi boyayınız. Boyalı harflerden oluşan şifreyi yazınız.


- K Herkes düşüncelerini özgürce söylemelidir.
- N Sadece kendi fikirlerimiz önemlidir.
- P Fikirlerimizi kabul etmeyen arkadaşlarımızla oynamamalıyız.
- A Farklı düşüncelere saygı duymalıyız.
- L Düşüncelerimizi söylerken kibar olmalıyız.
- A Okulda sadece öğretmenler fikirlerini söyleyebilir.
- A Sınıf kurallarına herkes uymak zorundadır.
- R Arkadaşlarımızın fikirlerine hoşgörülü olmalıyız.

Ş
U
R
K
E
L
Ü
İ

ŞİFRE : ○○○○○○○○○

1. Aşağıdakilerden hangisi doğrudur?


- A) Sınıf kurallarını okul müdürü belirler.
B) Sınıf kurallarını öğretmen belirler.
C) Sınıf kuralları ortak kararla alınır.

2.  Öğretmenden sonra derse gelirim.

Buna göre aşağıdakilerden hangisi söylenebilir?

- A) Okul kurallarına uyan bir öğrencidir.
B) Sınıf kurallarına uymayan bir öğrencidir.
C) Saygılı bir öğrencidir.

3.  Derse zamanında girmek
Öykü




 Yemeklerden önce elleri yıkamak

 Otobüste yaşlılara yer vermek




Ahmet

İrem

Çocuklardan hangisi okul kurallarından bahsetmiştir?

- A)  B)  C) 

4. Aşağıdaki çocuklardan hangisi okul kurallarına uymamaktadır?

- A)  B)  C) 

Yeni Nesil

5. Okul araç gereçlerini kullanırken dikkatli olmalıyız.

Sınıf kurallarını sadece öğretmen belirler.

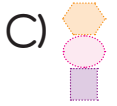
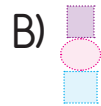
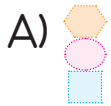
Okul müdürünün kurallara uyması zorunludur.

Okula zamanında gelmeliyiz.

Efe geometrik şekillerden bir model yapacaktır.

Üzerinde doğru bilgilerin yazılı olduğu şekilleri kullanacaktır.

Buna göre Efe'nin yapmış olduğu model hangisidir?





Yukarıdaki görsellere göre soruları cevaplayınız.

- ▶ Okulun karşısında hangi bina vardır?
- ▶ Kütüphane hangi binanın yanındadır?
- ▶ Sami, evden kütüphaneye giderken hangi caddeden geçmesi gerekir?
- ▶ Hastane'nin karşısında hangi bina vardır?

2. Aşağıdaki kutuyu doldurunuz.



Okulunuzun Adı:

Mahallesi :

Caddesi :

Sokağı :

İl :

İlçe :

Çevresinde olan binalar :

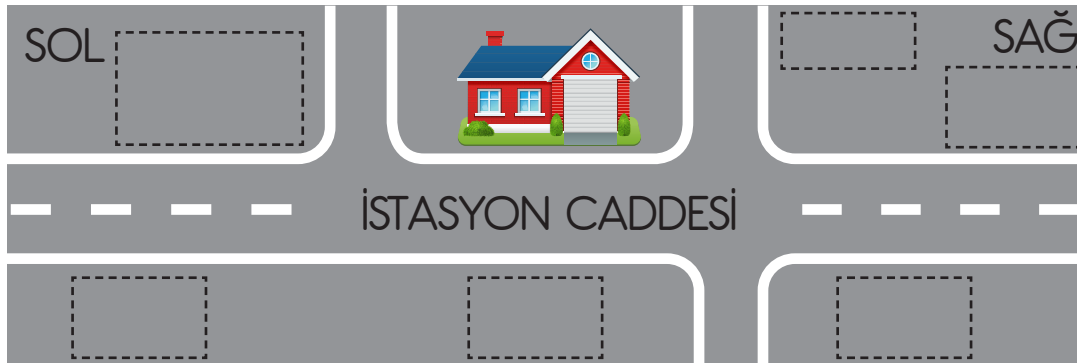
Okula giderken gördüğünüz binalar :

Yeni Nesil

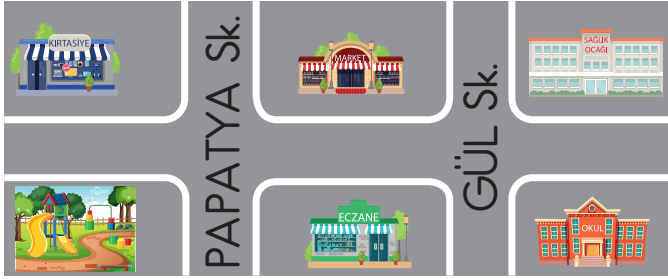
3. Yücel'in verdiği ifadelerle göre aşağıdaki krokiyi doldurunuz.



- Evimin sağında çiçekçi var.
- Çiçekçinin yanında kasap, karşısında market vardır.
- Evimin solunda manav vardır.
- Manavın karşısında pastane ve kütüphane vardır.



1 ve 2. soruları görsele göre cevaplayınız.



1. Marketin karşısında aşağıdakilerden hangisi vardır?

- A) Sağlık ocağı B) Kirtasiye
C) Eczane

2. Eczanenin solunda aşağıdakilerden hangisi vardır?

- A) Park B) Okul
C) Sağlık ocağı

3. Okulumuzun adresini yazarken aşağıdakilerden hangisine gerek yoktur?

- A) Sokak adı B) Mahalle adı
C) Market adı

4. Okulumuzun çevresini bilmek neden önemlidir?

- A) Tarif etmek için
B) Oyun oynamak için
C) Derslerde başarılı olmak için

Yeni Nesil

5. Ata kütüphaneden çıktıktan sonra evine gidecektir.



Buna göre Ata sırasıyla hangi yönlere gitmelidir?

- A) Sol - Sağ - Sağ B) Sol - Sağ - Sol C) Sol - Sol - Sağ

1. Aşağıdaki yarım bırakılan cümleleri eşleştiriniz.

- | | | |
|---|------------------------|------------------------|
| 1 | Lavabolarda boşta akan | tasarruflu kullanırım. |
| 2 | Okulda duvarları | yazı yazmam. |
| 3 | Kaynakları | musluğu kapatırım. |
| 4 | Sıraların üzerine | karalamam. |
| 5 | Okul araç gereçlerini | özenli kullanırım. |
| 6 | Tuvalet kağıdını | yere atmam. |

2. "Tasarrufa Önem Veriyorum" adlı bir afiş hazırlayınız.



Yeni Nesil



3. Aşağıda karışık halde verilen harflerle oluşan sözcükleri yazınız.

KYAKNA → ○○○○○○

EBÜÇT → ○○○○

TRUFARS → ○○○○○○○○

IISNMA → ○○○○○○

FRİAS → ○○○○

İLNÖEZ → ○○○○○○

MALBA → ○○○○