

Çek-Kopar

4. SINIF

YENİ NESİL SORULARLA

# PARAGRAF



YENİ NESİL

# PROBLEM

1artıbir  
yayıncılık



Akıllı Tahta  
uyumlu

© Bu kitabın tüm yayın hakları ENFA YAYINCILIK SAN.TİC.LTD.ŞTİ'ne aittir. Kitaptaki özgün metin, soru, şekil ve resimlerin tamamının veya bir kısmının Fikir ve Sanat Eserleri Kanunu uyarınca yayınevi ve yazarının yazılı izni olmaksızın elektronik, mekanik, fotokopi ya da başka bir şekilde çoğaltılması, yayımlanması ve dağıtılması yasaktır.

## **BİR PARAGRAF BİR PROBLEM KİTABI 4. SINIF**

### **Yazar**

Mesut YAVUZTÜRK

### **Yayıncı Sertifika**

51650

### **ISBN**

978-605-71154-8-5

### **Kapak-Tasarım**

Artıbir Grafik

### **Baskı**

Tarcan Matbaacılık (Murat Tarcan)  
İvedik Cad. No: 417/A • Yenimahalle / ANKARA  
Sertifika No: 47663

### **ENFA YAYINCILIK SAN. TİC. LTD. ŞTİ**

Fevzi Çakmak Mahallesi 10770 Sokak No: 1/K • Karatay / KONYA  
Tel: 0332 345 46 46 • Gsm: 0501 335 46 46  
[www.artibiryayinlari.com](http://www.artibiryayinlari.com) // [artibiryayinevi@gmail.com](mailto:artibiryayinevi@gmail.com)



# İÇİNDEKİLER

OKUMA KÜLTÜRÜ-Paragraf İnceleme ve Çözümleme.....	5-6
Problemler-6 Basamaklı Doğal Sayılar.....	7-8
Paragraflar-Test-1 .....	9-10
Problemler-6 Basamaklı Doğal Sayılar .....	11-12
Paragraflar-Test-2 .....	13-14
Problemler-Doğal Sayılarda Karşılaştırma ve Sıralama .....	15-16
Paragraflar-Test-3 .....	17-18
Problemler-Ritmik Saymalar ve Sayı Örüntüleri .....	19-20
Paragraflar-Yeni Nesil Test-1 .....	21-22
Problemler-Doğal Sayılar Yeni Nesil Sorular .....	23-24
Paragraflar-Deneme Sınavı-1 .....	25-26
Problemler-Deneme Sınavı-1 .....	27-28
MİLLİ MÜCADELE VE ATATÜRK-Paragraf İnceleme ve Değerlendirme.....	29-30
Problemler-Toplama İşlemi .....	31-32
Paragraflar-Test-4 .....	33-34
Problemler-Toplama İşlemi .....	35-36
Paragraflar-Test-5 .....	37-38
Problemler-Çıkarma İşlemi .....	39-40
Paragraflar-Test-6 .....	41-42
Problemler-Çıkarma İşlemi .....	43-44
Paragraflar-Yeni Nesil Test-2 .....	45-46
Problemler-Toplama ve Çıkarma İşlemi Yeni Nesil Sorular .....	47-48
Paragraflar-Deneme Sınavı-2 .....	49-50
Problemler-Deneme Sınavı-2 .....	51-52
ERDEMLER-Paragraf İnceleme ve Değerlendirme .....	53-54
Problemler-Çarpma İşlemi.....	55-56
Paragraflar-Test-7 .....	57-58
Problemler-Çarpma İşlemi .....	59-60
Paragraflar-Test-8 .....	61-62
Problemler-Bölme İşlemi .....	63-64
Paragraflar-Test-9 .....	65-66
Problemler-Bölme İşlemi .....	67-68
Paragraflar-Yeni Nesil Test-3 .....	69-70
Problemler-Çarpma ve Bölme İşlemi .....	71-72
Paragraflar-Deneme Sınavı-3 .....	73-74
Problemler-Deneme Sınavı-3 .....	75-76
BİLİM VE TEKNOLOJİ-Paragraf İnceleme ve Değerlendirme .....	77-78
Problemler-Kesir Sayıları .....	79-80
Paragraflar-Test-10 .....	81-82
Problemler-Kesir Sayıları .....	83-84
Paragraflar-Test-11 .....	85-86
Problemler-Kesir Sayıları .....	87-88
Paragraflar-Test-12 .....	89-90
Problemler-Kesir Sayıları Yeni Nesil Sorular .....	91-92
Paragraflar-Yeni Nesil Test-4 .....	93-94
Problemler-Kesir Sayıları Yeni Nesil Sorular .....	95-96
Paragraflar-Deneme Sınavı-4 .....	97-98
Problemler-Deneme Sınavı-4 .....	99-100

# İÇİNDEKİLER

DOĞA VE EVREN-Paragraf İnceleme ve Çözümleme .....	101-102
Problemler-Zamanı Ölçme(Saatler) .....	103-104
Paragraflar-Test-13 .....	105-106
Problemler-Zamanı Ölçme (Takvim) .....	107-108
Paragraflar-Test-14 .....	109-110
Problemler-Veri Toplama ve Değerlendirme .....	111-112
Paragraflar-Test-15 .....	113-114
Problemler-Zamanı Ölçme Yeni Nesil Sorular .....	115-116
Paragraflar-Yeni Nesil Test-5 .....	117-118
Problemler-Veri Toplama ve Değerlendirme Yeni Nesil Sorular .....	119-120
Paragraflar-Denem Sınavı-5 .....	121-122
Problemler-Deneme Sınavı-5 .....	123-124
MILLİ KÜLTÜRÜMÜZ-Paragraf İnceleme ve Çözümleme .....	125-126
Problemler-Geometrik Kavramlar .....	127-128
Paragraflar-Test-16 .....	129-130
Problemler-Kare, Dikdörtgen ve Üçgen .....	131-132
Paragraflar-Test-17 .....	133-134
Problemler-Geometrik Cisimler .....	135-136
Paragraflar-Test-18 .....	137-138
Problemler-Geometri Yeni Nesil Sorular .....	139-140
Paragraflar-Yeni Nesil Test-6 .....	141-142
Problemler-Geometri Yeni Nesil Sorular .....	143-144
Paragraflar-Deneme Sınavı-6 .....	145-146
Problemler-Deneme Sınavı-6 .....	147-148
OYUN VE SPOR-Paragraf İnceleme ve Çözümleme .....	149-150
Problemler-Simetri .....	151-152
Paragraflar-Test-19 .....	153-154
Problemler-Uzunlukları Ölçme .....	155-156
Paragraflar-Test-20 .....	157-158
Problemler-Çevre ve Alan Ölçme .....	159-160
Paragraflar-Test-21 .....	161-162
Problemler-Simetri Yeni Nesil Sorular .....	163-164
Paragraflar-Yeni Nesil Test-7 .....	165-166
Problemler-Uzunluk, Çevre ve Alan Ölçme Yeni Nesil Sorular .....	167-168
Paragraflar-Deneme Sınavı-7 .....	169-170
Problemler-Deneme Sınavı-7 .....	171-172
SANAT-Paragraf İnceleme ve Değerlendirme .....	173-174
Problemler-Sıvıları Ölçme .....	175-176
Paragraflar- Test-22 .....	177-178
Problemler-Sıvıları Ölçme-Tartma .....	179-180
Paragraflar-Test-23 .....	181-182
Problemler-Tartma .....	183-184
Paragraflar-Test-24 .....	185-186
Problemler-Sıvıları Ölçme Yeni Nesil Sorular .....	187-188
Paragraflar-Yeni Nesil Test-8 .....	189-190
Problemler-Tartma Yeni Nesil Sorular .....	191-192
Paragraflar-Deneme Sınavı-8 .....	193-194
Problemler-Deneme Sınavı-8 .....	195-196

Betül kitap okumayı çok seviyordu. Babası her maaş aldığında kendisine verdiği harçlığın bir miktarı ile mutlaka kitap alırdı. Aldığı kitabı hemen okuyup bitirmek için çaba sarf ederdi. Kitabını okuyup bitirdiğinde özetini çıkarmayı da ihmal etmezdi. Kitap ve yazar hakkında yorumlar yazar, eleştirilerde bulunurdu. Çünkü, Betül büyüdüğünde yazar olmak istiyordu.

Aşağıdaki soruları yukarıdaki paragrafa göre cevaplayınız.

- 1- Yukarıdaki paragrafta anlatılan olayın kahramanı kimdir?
- 2- Betül'ün kitapları ne ile aldığı söylenebilir?
- 3- Betül aldığı kitapları okuyup bitirdiğinde ihmal etmediği şey nedir?
- 4- Yukarıdaki paragrafta toplam kaç cümle vardır?


Dünya'mızı kuzey ve güney yarım küre olarak ikiye ayıran hayali çizgiye Ekvator adı verilir Dünya'mızı çevreleyen Ekvator, kırk iki bin kilometre olarak bilinir Ekvator bölgelerinde genellikle kış mevsimi yaşanmaz Hava çoğu zaman çok sıcaktır Bundan dolayı çöller Ekvator bölgesinde yer alır Yaşadığımız mevsimlerde Ekvator önemlidir Ekvator'un kuzeyinde kış mevsimi yaşanırken güneyinde ise yaz yaşanır

Aşağıdaki soruları yukarıdaki paragrafa göre cevaplayınız.

- 1- Paragrafa göre aşağıdaki yerküre üzerinde Ekvator çizgisini çizin ve yarım küreleri adlandırınız.



- 2- Ekvator bölgesinde hangi mevsimin yaşandığı söylenemez?
- 3- Çöllerin çoğunlukla Ekvator bölgesinde görülmesinin nedeni nedir?
- 4- Yukarıdaki paragrafın noktalama kuralı yönünden doğru olması için kaç yere nokta konulmalıdır?



Yeni aldığınız ürünlerin çoğunda kullanma kılavuzları bulunur. Kullanma kılavuzları ürünün özelliklerine göre bir kağıt parçası ya da kitapçık şeklinde de olabilir. Bu kılavuzlar, kullanıcının ürünü kullanırken doğru yönlendirilmesini ve ürünün uzun süre kullanılmasını sağlayarak bir anlamda bizlerin maddi olarak zarara uğramamamızı amaçlar. Ürünü kullanmaya başladığımızda kullanma kılavuzunun uyarılarını dikkate alırsak ürünü uzun süre kullanabiliriz.

Aşağıdaki soruları yukarıdaki paragrafa göre cevaplayınız.

- 1- Yukarıdaki metnin türü nedir?
- 2- Aldığımız ürünlerde kullanma kılavuzu bulunan beş tane ürün yazınız.
- 3- Ürünlerde kullanma kılavuzunun olmasının üretici açısından amacı neymiş?



Bu yıl sınıfımıza yeni bir öğrenci gelmişti. Öğretmenimiz bizi yeni arkadaşımızla tanıştırdı. Adı Sami'ydi. İlk teneffüste herkes Sami'nin etrafında toplanmış ve onunla arkadaş olmak istiyordu. Sami'nin sınıfımızda ilk günü olduğundan doğal olarak çekingen davranıyordu. Öğretmenimiz, Sami okulumuza alışincaya kadar bana, onunla arkadaşlık yapmamı istedi. Ben de diğer arkadaşlarımı ihmal etmeden Sami ile iyi vakit geçirdim.

Aşağıdaki soruları yukarıdaki paragrafa göre cevaplayınız.

- 1- Yukarıdaki paragrafta olayın hangi unsurundan söz edilmemiştir?
- 2- Sami, herkes onunla arkadaş olmak istemesine rağmen neden çekingen davranıyordu?
- 3- Yukarıdaki paragrafta geçen 5 tane anlamdaş kelimeyi anlamdaşı ile birlikte yazınız.







Cenk, aradığı test kitabını bulabil-  
mek amacıyla kırtasiyeye girdi. Raflar-  
da aradığı kitabı bulması epeyce uzun  
sürdü. Ancak kitabı buldu. Kitabın ü-  
cretini ödeyip eve geldi. Hemen kitabın  
"İÇİNDEKİLER" bölümüne göz attı. Sonra  
kitabın en arkasındaki "CEVAP ANAH-  
TARLARI" sayfalarını yırtıp dolaba sak-  
ladı. Kitabı çok beğendiği için yazarının  
kim olduğuna baktı. Cenk, soruları bir  
an önce çözmek istiyordu.

Yukarıdaki paragrafı dikkatlice okuyup  
aşağıdaki soruları cevaplayınız.

1- Yukarıdaki paragrafta aşağıdakilerin  
hangisinden söz edilmemiştir?

- A) Cenk, kırtasiyede test kitabı  
aramaktadır.
- B) Cenk, evde kitabın içeriğinde  
bulunan konuları incelemiştir.
- C) Cenk, kitaptaki soruları  
çözebilmek için çok heyecanlıydı.
- D) Cenk, kitabı beğenmediği için  
iade etti.

2- Paragrafa göre Cenk'in satın aldığı ki-  
tabın 240 sayfa olduğunu düşünürsek,  
hangi sayfalarına baktığı söylenemez?

- A) 2. sayfa
- B) 8-9. sayfalar
- C) 191-192. sayfalar
- D) 239-240. sayfa


Nilüfer çiçeği,  
anavatani yağmur  
ormanları olan bir  
su bitkisidir. Nilüfer  
çiçeği halk arasında  
Lotus çiçeği olarak da bilinir. Kendi  
kendini temizleyen özel bir sistemi  
vardır. Bu yüzden dünyadaki en temiz  
çiçek olarak tanımlanır. Başta dere  
kenarları ve göller olmak üzere sulak  
yerlerde yetişen nilüfer çiçeği son  
derece estetik bir özelliğe sahiptir.



Yukarıdaki paragrafı dikkatlice okuyup  
aşağıdaki soruları cevaplayınız.

3- Yukarıdaki paragrafta göre nilüfer çi-  
çeği aşağıdaki hangi ortamda yetişe-  
bilir?

A)



B)



C)



D)



4- Yukarıdaki paragraf kaç cümleden  
oluşmaktadır?

- A) 5
- B) 6
- C) 7
- D) 8



Harita okumak da kitap okumak gibidir. Kitap okuyabilmek için harfleri bilmek ve harfleri birleştirmeyi bilmek gerekir. Haritayı okuyabilmek için ise haritadaki renkleri, haritada kullanılan sembol ve işaretleri bilmek gerekir. Özellikle fiziki bir haritada mavi ve tonları deniz, göl, akarsu ve okyanusları gösterir. Yeşil; deniz seviyesine yakın olan yerleri, seviyeler yükseldikçe de sarıdan kahverenginin tonlarına doğru bir değişim olur. Haritalarda bunun yanı sıra birçok işaret ve sembol, haritaların sağ alt köşesinde anlamları ile birlikte verilir.

Yukarıdaki paragrafı dikkatlice okuyup aşağıdaki soruları cevaplayınız.

5- Yukarıdaki paragrafta bir başlık vermek istersek aşağıdakilerden hangisi olurdu?

- A) OKUMANIN YARARLARI
- B) HARİTA OKUMAK
- C) HARİTA ÇEŞİTLERİ
- D) NASIL OKUMALIYIZ?

6- Yukarıdaki paragrafta kaç yere cümle sonu olduğu için nokta konulmalıdır?

- A) 3
- B) 4
- C) 5
- D) 6



Neredeyse son iki yılımızı esir alan Korona virüs nedeniyle okullarımız uzun süre kapalı kaldı. Bu nedenle eğitimden de epeyce uzaklaştık. Her ne kadar uzaktan eğitime devam etsek de yüzyüze alınan eğitim gibisi yok. Çok şükür bu yıl alınan tedbirler ve aşılama ile okullarımız açıldı. Öğretmenlerimize ve arkadaşlarımıza kavuştuk. Umarız bu Korona illeti yok olup gider, bir daha okullarımız kapanmaz.

Yukarıdaki paragrafı dikkatlice okuyup aşağıdaki soruları cevaplayınız.

7- Yukarıdaki paragrafta aşağıdaki hangi iki görselde ifade edilen konu karşılaştırılmıştır?

A)




B)



C)



D)



8- Yukarıdaki paragrafta aşağıdaki hangi kelimenin zıt anlamı yoktur?

- A) Kısa
- B) Yakın
- C) Açık
- D) Alçak





Bugün öğretmenimiz derste bizden "ekinoks" kelimesinin anlamını öğrenmemizi istedi. Eve gelince hemen babamla yeni aldığımız Türkçe sözlüğünü açtım. Öğrendiğim bilgilerden yararlanarak kelimeyi hemen buldum. Anlamını defterime yazdım. Bu sözlükte kelimelerin anlamı verildikten sonra örnek cümle verilmesi çok hoşuma gitti. Bence bütün kitaplar gibi sözlükler de bilgilerini bizden esirgemiyorlar.



Yukarıdaki paragrafı dikkatlice okuyup aşağıdaki soruları cevaplayınız.

- 1- Yukarıdaki paragrafta altı çizili kelime grubunun bulunduğu cümlede anlatılmak istenen konu hangisidir?
  - A) Okuduğunu anlama
  - B) Yazım kuralları
  - C) Kelime türleri
  - D) Abecesel sıralama
- 2- Paragrafın ana fikri nedir?
  - A) Sözlüklerdeki bilgiler
  - B) Sözlükler de diğer kitaplar gibi bilgi esirgemez.
  - C) Sözlük bilgi kaynağıdır.
  - D) Bol bol kitap okumalıyız.
- 3- Aşağıdaki hangi kelimenin eş anlamı paragrafta vardır?
 

A) Mektep	B) Vakit
C) Sözcük	D) Netice

Tuna İzmir'den Gaziantep'teki teyzesini ziyaret etmek için otobüsle yola çıktı. Sabaha karşı otogara indi. Yaz olmasına rağmen üzerinde ince kıyafetleri olduğu için çok üşüdü. Neyse ki teyzesi fazla gecikmedi. Arabası ile onu eve götürürken de "Tunacığım günün en soğuk vakti güneşin doğmasına yakın anlar, en sıcak vakti ise ikindedir. Bu vakitlerde daha dikkatli ve tedbirli olmalıyız." dedi. Tuna, yeni bir bilgi daha öğrenmişti.



Yukarıdaki paragrafı dikkatlice okuyup aşağıdaki soruları cevaplayınız.

- 4- Yukarıdaki paragrafta yazılan olayın zamanı ile ilgili aşağıdakilerden hangisi doğrudur?
  - A) Kış mevsiminden bir akşam vakti
  - B) Bahar mevsimi bir ikindi vakti
  - C) Yazın sabah saatleri
  - D) Paragrafta olayın zamanından söz edilmemiştir.
- 5- Paragrafta geçen altı çizili cümlelerin başındaki ve sonundaki tırnak işareti yerine aşağıdaki noktalama işaretlerinden hangisi kullanılabilir?
 

A) Virgöl	B) Kesme işareti
C) İki nokta	D) Uzun çizgi



Berke ile Talha kavga ediyorlardı. Olayı gören Sena, öğretmenine söyledi. Öğretmen ikisini de çağırdı. Kavganın sebebini sordu. Öğretmen her ikisini de dinledi. Kavganın sebebi iki arkadaşın birbirini dinlememesi ve aralarında geçen konuşmaların yanlış anlaşılmasıydı. Berke ile Talha birbirinden özür dilediler. Tokalaşıp kucaklaştılar.

Yukarıdaki paragrafı dikkatlice okuyup aşağıdaki soruları cevaplayınız.

- 6- Yukarıdaki paragrafın konusu nedir?
- A) Sena'nın şikayeti  
B) Sınıftaki tartışma  
C) Kavganın zararları  
D) Berke ile Talha'nın kavgası
- 7- Yukarıdaki paragrafta anlatılan olayın unsuru ile ilgili aşağıdakilerden hangisi söylenebilir?
- A) Hayali unsurlar içerir.  
B) Gerçek unsurlar içerir.  
C) Abartıya yer verilmiştir.  
D) Duygusal ifadeler yer verilmiştir.

Bir kavram ya da varlığın adı söylendiğinde aklımıza gelen ilk anlamına gerçek (1. anlam) anlam denir. Okunuşları ve yazılışları aynı, anlamları farklı olan kelimelere eş sesli ya da sesteş kelimeler denir. Kelimelerin sesteş olabilmesi için aynı yazılıp okunabilmelidir. Bir kelimenin mecaz anlamda cümlede kullanılması o kelimenin sesteş olduğu anlamına gelmez. Sesteş iki kelimenin de akla ilk gelen anlamının gerçek olması gerekir. Bazı kelimelerin ikiden fazla gerçek anlamı olabilir.

Yukarıdaki paragrafı dikkatlice okuyup aşağıdaki soruları cevaplayınız.

- 8- Yukarıdaki paragraf aşağıdaki hangi soruya cevap olarak yazılmıştır?
- A) Sesteşlik nedir? Açıklar mısınız?  
B) Sesteş kelimelere örnek verir misiniz?  
C) Sesteş kelimeler cümlede nasıl kullanılırlar?  
D) Sesteş kelimelerin mecaz anlamdan farkı nedir?
- 9- Yukarıdaki paragrafta geçen aşağıdaki hangi kelime sesteştir?
- A) İlk B) Bir C) Eş D) Bazı
- 10- Yukarıdaki paragrafta aşağıdaki hangi kelimenin anlamdaşı kullanılmıştır?
- A) Anlam B) Sesteş  
C) Kelime D) Fazla





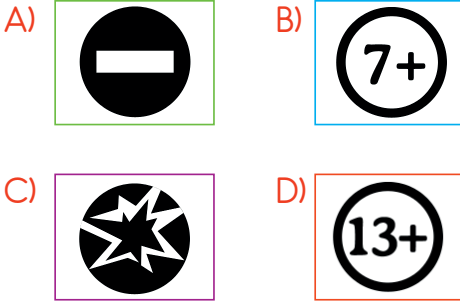


Sahra, televizyon-  
da bir programı izle-  
yeceği zaman anne-  
sine sorardı. Annesi  
de programdaki akıllı  
işarete bakar, uy-  
gunsa izlemesine izin verirdi. Sahra  
derslerde akıllı işaretlerin anlamını öğ-  
renmişti. 7 yaş ve üzeri izleyiciler için  
genel izleyici kitlesi olumsuz örnekler  
içeren program şiddet, korku içeren ve  
12 yaş üzeri gibi. Sahra artık hangi te-  
levizyon programını izleyip izlemeyece-  
ğine kendisi karar veriyor.



Yukarıdaki paragrafı dikkatlice okuyup  
aşağıdaki soruları cevaplayınız.


- 1- Sahra, 4. sınıfa giden bir öğrenci oldu-  
ğuna ve kendisine uygun bir program  
izlediğine göre televizyonda hangi  
akıllı işaret vardır?



- 2- Yukarıdaki paragrafın bir cümlesinde  
virgül kullanılmamıştır. Bu cümlede kaç  
tane virgül eksik kullanılmıştır?

A) 1 B) 2 C) 3 D) 4

Burak her zaman-  
ki gibi okula yürüyerek  
gidiyordu. Hava soğuk  
olmasa da güneşli ama  
serindi. Burak'ın yüzüne  
karşıdan hafif bir esinti  
geliyordu. Yolda dalgın dalgın yürürken  
komşusu Salih amcanın selamına karşı-  
lık verdi. Burak okul vaktinin iyice yak-  
laştığını anlayınca adımlarını hızlandırdı.  
Nihayet köşeyi dönünce okul görüldü.  
Okula doğru ilerlerken yol kenarındaki  
bir kedinin ona "Günaydın" selamını o  
da "Günaydın." diyerek cevapladı. Burak  
zil çalmadan okula gelmişti.



Yukarıdaki paragrafı dikkatlice okuyup  
aşağıdaki soruları cevaplayınız.

- 3- Yukarıdaki paragrafta aşağıdaki hangi  
duyumumuza yer verilmemiştir?

A) Koklama B) İşitme  
C) Dokunma D) Görme

- 4- Yukarıdaki paragrafın kaçınıcı cümle-  
sinde hayal ürünü bir ifadeye yer ver-  
ilmiştir.

A) 3. B) 4. C) 6. D) 7.

- 5- Yukarıdaki paragrafta geçen kaç tane  
sesteş kelime vardır?

A) 3 B) 5 C) 6 D) 7



- 1- Yaşadığı olay anneanneme sanki ders olmuştu.
- 2- Geçenlerde çarşıdan eve dönmek için anneannem başka bir otobüse binmiş.
- 3- Anneannem okuma yazma bilmezdi.
- 4- Anneannem 68 yaşında ve artık okuyup yazabiliyor.
- 5- Otobüs anneannemi başka bir semte götürünce birine utanarak hangi otobüse binmesi gerektiğini sormuş.
- 6- Hemen halk eğitim merkezinin açtığı okuma-yazma kursuna başladı.

- 6- Yukarıda bir paragraftan alınmış cümleler numaralandırılarak karışık olarak verilmiştir. Buna göre kaçınıcı cümle paragrafın giriş cümlesidir?

A) 2. B) 3. C) 4. D) 5.

- 7- Yukarıdaki cümleleri karışık olarak verilmiş olan paragrafın kaçınıcı cümlesi sonuç cümlesidir?

A) 1. B) 2. C) 3. D) 4.

- 8- Yukarıdaki paragrafın gelişme bölümü cümlelerinin sıralaması hangi seçenekte verilmiştir?

A) 2-5-1-6 B) 2-5-6-1  
C) 2-1-6-5 D) 5-2-6-1

Dünya Covid-19'dan yedi fiske,  
Bize yaklaşmasa, uzaklaşsa keşke.  
Mesafeyi koru, ellerini bolca yıka,  
Korunmak için takmalıyız bir maske.

Maskeni tak ki virüs bulaşmasın,  
Çok tehlikelidir sana yaklaşmasın.  
Bu konuda her söylenene itibar etme,  
Sonra sağlığını senden uzaklaşmasın.

Mesut Yavuztürk

- 9- Yukarıdaki şiirin başlığı aşağıdakilerden hangisidir?

A) COVID-19 AFETİ  
B) VİRÜS VE TEMİZLİK  
C) MASKEMİZİ TAKALIM  
D) MESAFENİN ÖNEMİ

Hareketlenir canlılar ve insanlar,  
Her yer rengarenk, kırdan koşanlar.  
Ağaçlar giyinip kuşanırlar,  
Bu zamanda yavrular, hayvanlar.  
Mesut Yavuztürk

- 10- Yukarıdaki şiirin başlığı aşağıdakilerden hangisidir?

A) İLKBAHAR  
B) RENGARENK KIRLAR  
C) İNSANLAR VE CANLILAR  
D) CANLILAR VE DOĞA





Alptekin sabah erkenden kalkıp hem yürümüş olurum hem de bir pastane bulabilirsem kahvaltılık simit ve poğaçaya alırım düşüncesiyle dışarı çıktı. Dış kapıdan çıkınca bina görevlisinin merdivenlerde oturduğunu gördü. Görevliye gülerak selam verdi. Görevli de güler yüzle karşılık verdi. On dakika kadar caddede yürüyünce ileride solda bir pastane gördü. Caddenin karşısına dikkatlice geçip pastanenin camkanının önünde durarak biraz nefes aldı.



Yukarıdaki paragrafı dikkatlice okuyup aşağıdaki soruları cevaplayınız.

- 1- Yukarıdaki paragraf ile ilgili aşağıdakilerden hangisi söylenebilir?
  - A) Alptekin acıktığı için sabah erken kalkmıştır.
  - B) Alptekin binanın önünde ev sahibi ile selamlaşmıştır.
  - C) Alptekin caddenin solunda bir pastane görmüştür.
  - D) Alptekin pastaneden iki poğaçaya ve bir simit almıştır.
  
- 2- Aşağıdaki seçeneklerde verilenlerden hangisi paragrafın anahtar kelimelerinden biri değildir?
  - A) Sabah
  - B) Sokak
  - C) Bina görevlisi
  - D) Pastane

Ferda, beş kişilik bir ailenin en büyük kız çocuğuydu. Kardeşleri ona abla diyorlardı. Abla olmak sorumluluk demektir. Çünkü küçükler olumlu ve olumsuz davranışları büyüklerinden alırlar. Ferda bunun bilincindeydi. Onun için Ferda özellikle kardeşleri ile bir aradayken konuşmalarına, hal ve hareketlerine dikkat ediyordu. Aynı zamanda da anne ve babasının sözünden çıkmıyordu. Büyüklere saygı, küçüklere sevmek kavramının en güzel örneği Ferda.

Yukarıdaki paragrafı dikkatlice okuyup aşağıdaki soruları cevaplayınız.

- 3- Paragrafta geçen Ferda ile ilgili aşağıdakilerden hangisi söylenemez?
  - A) Ferda çok çalışkan ve başarılıdır.
  - B) Ferda sorumluluk sahibidir.
  - C) Ferda saygılı bir çocuktur.
  - D) Ferda örnek davranışlar sergilemektedir.
  
- 4- Yukarıdaki paragrafta seçeneklerde verilen hangi iki zıt anlamlı kelime vardır?
  - A) Ağabey - Abla
  - B) Güzel - Çirkin
  - C) Büyük - Küçük
  - D) Olumlu - Olumsuz

Okulun paydos zili çalınca öğrenciler koşar adımlarla çıkışa ulaşmaya çalışıyorlardı. Sanki hepsinin yetişmesi gereken randevusu vardı ya da arkalarından kovalayan. Bu sırada Umut'un ayağı takılıp düştü. Sait ona "Dikkat etsene!" deyip kızdı. Ceylan, Umut'un durumuna kahkahalarla güldü. Turgay, onu yerden kaldırdı, dağılan eşyalarını toplamasına yardım etti. Tuğçe görmesine rağmen kitabının üstüne basıp geçti. Turgay Umut'a bir şeyi olup olmadığını sordu. Sadece dizi biraz acımişti. Umut biraz aksasa da yürüyerek çıkış kapısına ulaştı.

Yukarıdaki paragrafı dikkatlice okuyup aşağıdaki soruları cevaplayınız.

- 5- Yukarıdaki paragraf bize aşağıdaki hangi okul kuralını hatırlatır?
- A) Öğretmenlerimize ve arkadaşlarımıza karşı saygılı olmalıyız.
- B) Koridor ve merdivenlerde koşmamalıyız.
- C) Okula zamanında gelmeliyiz.
- D) Okul eşyalarına zarar vermemeliyiz.
- 6- Yukarıdaki paragrafta yaşanan olayın kahramanlarının karakter özellikleri ile ilgili aşağıdakilerden hangisi söylenebilir?
- A) Ceylan hoşgörülüdür.
- B) Tuğçe dikkatlidir.
- C) Sait alaycıdır.
- D) Turgay duyarlı ve yardımseverdir.

Kitaplar raflarda düzgünce sıralanarak değil, okunarak güzelleşir. Raflardaki kitapların okunmadıktan sonra bize ne yararı olur ki? Düşünsenize çok paranız var ve kendinize son model bir araba satın alıp evinizin önüne koydunuz. Ancak araba kullanmasını bilmiyorsunuz. O halde aldığınız son model arabanın size ne faydası olur? Lütfen raflarımızda "Ne çok kitabı var." desinler diye değil, okuyup faydalanmak için kitap bulunduralım.



Yukarıdaki paragrafı dikkatlice okuyup aşağıdaki soruları cevaplayınız.

- 7- Yukarıdaki paragraftaki metnin türü aşağıdakilerden hangisidir?
- A) Tartışma B) Betimleyici
- C) Öyküleyici D) Tanımlayıcı
- 8- "O halde, aldığınız son model arabanın size ne faydası olur?" cümlesi aşağıdakilerden hangisi gibi yazılırsa anlamda bir değişiklik olmaz?
- A) O durumda sattığınız son model arabanın size ne yararı olur?
- B) Bu halde, aldığımız son marka arabanın bize ne faydası olur?
- C) O halde, aldığımız son model otomobilin bize ne zararı olur?
- D) O halde aldığımız son model otomobilin bize ne yararı olur?








Okullarda öğrenenlerimiz, evde büyüklerimiz tasarruf konusunda dikkat etmemiz gerekenleri sürekli tekrar ederler. Elektrik, su, doğal gaz veya diğer kaynakların tasarrufu gibi. Sözü edilen bu tasarruflar parasal kaynakları olumlu veya olumsuz etkiler. Aslında en önemli tasarruf zaman tasarrufudur. Çünkü elektrik, su, doğal gaz para ve diğer kaynaklar tekrar kazanılabilir, fakat geçen zamanı asla geri getiremeyiz. Zamanımızı boşa harcamamalı, her anımızı olumlu yönde kullanmalıyız.



Yukarıdaki paragrafı dikkatlice okuyup aşağıdaki soruları cevaplayınız.

- 1- Yukarıdaki paragrafta kırmızı ile yazılmış kaç kelime zıt anlamlıdır?  
A) 4 B) 5 C) 6 D) 8
- 2- Yukarıdaki paragrafta altı çizili kaç kelimenin eş anlamı vardır?  
A) 5 B) 7 C) 9 D) 11
- 3- Yukarıdaki metinde geçen aşağıdaki hangi kelimenin hem eş anlamı hem de zıt anlamı vardır?  
A) Okul B) Boş  
C) Doğal D) Fakat

Kırtasiyeci Mehmet amca, herkes tarafından sevilen hoş görülü ve ilgili bir esnaftı. herkesin işini kolaylaştırmak için çaba sarfederdi. Bir gün Efe hikaye Kitabı almak için kırtasiyeye girdi. Bir hikaye setini beğendi. ama parası yeterli olmadığı için almaktan vazgeçti. kırtasiyeci Mehmet amca, "Üzerini sonra getirirsin" deyince Efe "Annem kızar" diye cevap verdi. Bunun üzerine Mehmet amca "Al sen bu Hikaye setini Paranın geri kalanı sana hediyem olsun" dedi



Yukarıdaki paragrafı dikkatlice inceleyip aşağıdaki soruları cevaplayınız.

- 4- Yukarıdaki paragrafın kaç kelimesinde büyük harf hatası yapılmıştır?  
A) 4 B) 5 C) 6 D) 7
- 5- Yukarıdaki metnin bir cümlesinde virgül kullanılması gerektiği halde kullanılmamıştır. Bu cümleyi tespit ediniz. Bu cümlede kaç tane virgül kullanılması gerekir?  
A) 1 B) 2 C) 3 D) 4
- 6- Yukarıdaki paragrafta kaç yerde noktanın kullanımında hata yapılmıştır?  
A) 3 B) 4 C) 5 D) 6

Artık havalar serinlemeye başladı. Demek ki güz yaklaşıyor. Mevsimler içinde en çok güzü sevdiğimi söyleyebilirim. Ağaç yapraklarının sararması, rüzgarlar estikçe yere dökülmesi ile yerler rengarenk bir halı gibi olur. Bence mevsimler içinde en renkli olanı güzdür. Havalar ne çok sıcak olur, ne de soğuk. Tabii ki diğer mevsimlerin kendine has güzelliklerini de unutmamak gerek.



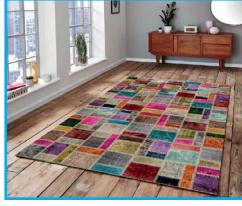
Yukarıdaki paragrafı dikkatlice okuyup aşağıdaki soruları cevaplayınız.

7- Paragrafta dökülen yapraklar neye benzetilmiştir?

A)



B)



C)



D)



8- Yukarıdaki paragrafta geçen aşağıdaki hangi kelime eş seslidir?

A) Ben

B) Güz

C) Çok

D) Has

Herkes Nisa'ya "Kitap Kurdu" diye hitap eder. Çünkü o, her fırsatta eline bir kitap alır ve o kitabı okur. Arkadaşları oyun oynarken Nisa kitap okumayı tercih eder. Nisa, "Ben daha çok resimsiz kitapları okumayı severim. Çünkü resimli kitaplarda resimlere takılıyor ve okumayı unutuyorum. Resimsiz kitaplarda anlatılanları kafamda resmetmeyi seviyorum." diyor.



Yukarıdaki paragrafı dikkatlice okuyup aşağıdaki soruları cevaplayınız.

9- Yukarıdaki paragrafın başlığı nedir?

A) Kitap Kurdu Nisa

B) Resimsiz Kitaplar

C) Okuma Zamanı

D) Nisa'nın Kitapları

10- Yukarıdaki paragrafta göre Nisa ile ilgili aşağıdakilerden hangisi doğrudur?

A) Boş zamanlarında bazen kitap okur.

B) Nisa oyun oynamayı da sever.

C) Resimsiz kitapları okumayı sever.

D) Kitap sayfalarının resmini çizer.

11- "Çünkü o, her fırsatta eline bir kitap alır ve o kitabı okur." cümlesinde hangi kelime sestestir?

A) O

B) El


C) Ve

D) Bir

- 1- Rakamları farklı 6 basamaklı en büyük tek doğal sayı kaçtır ve okunuşu aşağıdaki hangi seçenekte verilmiştir?
- A) Dokuz yüz doksan dokuz bin dokuz yüz doksan dokuz
- B) Dokuz yüz doksan dokuz bin dokuz yüz doksan sekiz
- C) Dokuz yüz seksen yedi bin altı yüz elli dört
- D) Dokuz yüz seksen yedi bin altı yüz elli üç

- 2- 39 651 doğal sayısının binler basamağının basamak değeri sayı değerinden kaç fazladır?

- A) 8 991                      B) 9 991
- C) 8 911                      D) 9 871



- 3- Yukarıdaki abaküste gösterilen doğal sayıya, bölüklerin yerleri değiştirildiğinde elde edilen yeni doğal sayı ile önceki doğal sayının farkı kaçtır?

- A) 282 528                      B) 362 737
- C) 362 637                      D) 362 837

Onlar basamağı: 7  
Birler basamağı: 8  
Yüzbinler basamağı: 5  
Yüzler basamağı: 3  
Onbinler basamağı: 6

- 4- Yukarıdaki tabloda basamaklarındaki rakamları verilen doğal sayıdan beş basamaklı en büyük doğal sayıyı çıkardığımızda oluşan sayıyı abaküste gösterdiğimizde kaç boncuk kullanırız?

- A) 29    B) 30    C) 33    D) 36

$$8\ 517 > * > 3\ 648$$

- 5- Yukarıdaki doğal sayı sıralamasında \* yerine yazılabilecek en büyük doğal sayı ile en küçük doğal sayının toplamı kaçtır?

- A) 12 165                      B) 11 165
- C) 12 265                      D) 12 075

- 6- Onlar basamağında 7 bulunan dört basamaklı en küçük doğal sayının en yakın yüzlüğü, rakamları farklı üç basamaklı en büyük doğal sayının en yakın onluğundan kaç fazladır?

- A) 101                              B) 110
- C) 111                              D) 121

24	32	40	48	56
30	38	46	54	62
36	44	52	60	68
42	50	58	66	74
48	56	64	72	80
54	62	70	78	86
60	68	76	84	92

7- Yukarıdaki sayı tablosu ile ilgili aşağıdakilerden hangisi söylenemez?

- A) Soldan sağa sekizer ritmik saymadır.  
 B) Yukarıdan aşağıya altışar ritmik saymadır.  
 C) Sol üstten sağ alta çapraz doğru ondörder ritmik saymadır.  
 D) Sağ üstten sol alta çapraz dörder ritmik saymadır.

8- İkişer ikişer, üçer üçer, dörder dörder, altışar altışar, sekizer sekizer yüze kadar ileri ritmik saymaların ortak doğal sayılarının toplamı kaçtır?

- A) 216 B) 240 C) 320 D) 480

545	426	363	274
862	777	608	501
791	840	753	636
446	389	276	187

9- Yukarıdaki tabloda verilen doğal sayılarla ilgili

Ceylan:

- Ben 1. sütundaki kendi yüzlüğüne yuvarlanabilen sayıları topladım.

Derya:

- Ben 2. satırdaki kendi onluğuna yuvarlanabilen sayıların farkını buldum.

Filiz:

- Ben de 4. sütundaki bütün sayıları en yakın yüzlüklerine yuvarlayıp topladım.

Buna göre aşağıdakilerden hangisi öğrencilerin bulduğu sayılardan biri değildir?

- A) 991 B) 361 C) 1 500 D) 1 600

10-  $\blacksquare + \blacksquare = 8$ ,  $\blacksquare + 3 = \blacktriangle$ ,  
 $\bullet - 2 = \blacktriangle$ ,  $\bullet : 3 = \star$ ,  
 $\star \times 2 = \heartsuit$ ,  $\heartsuit - \blacksquare = \blacktriangledown$ ,

olduğuna göre sembollerin oluşturduğu en büyük doğal sayı ile en küçük doğal sayı farkının rakamlar toplamı kaçtır?

- A) 27 B) 29 C) 31 D) 33